



# Rogaliński Park Krajobrazowy






## Szlakiem majestatycznych dębów

1/P/19

Długość trasy ok. 13 km  
Do potwierdzenia 20 PK

Kreślenie mapy: Hanna Nowak  
Opracowanie trasy: Kornelia Kniola,  
Katarzyna Sierpowska  
Aktualność mapy: marzec 2019  
Wersja: 1.0

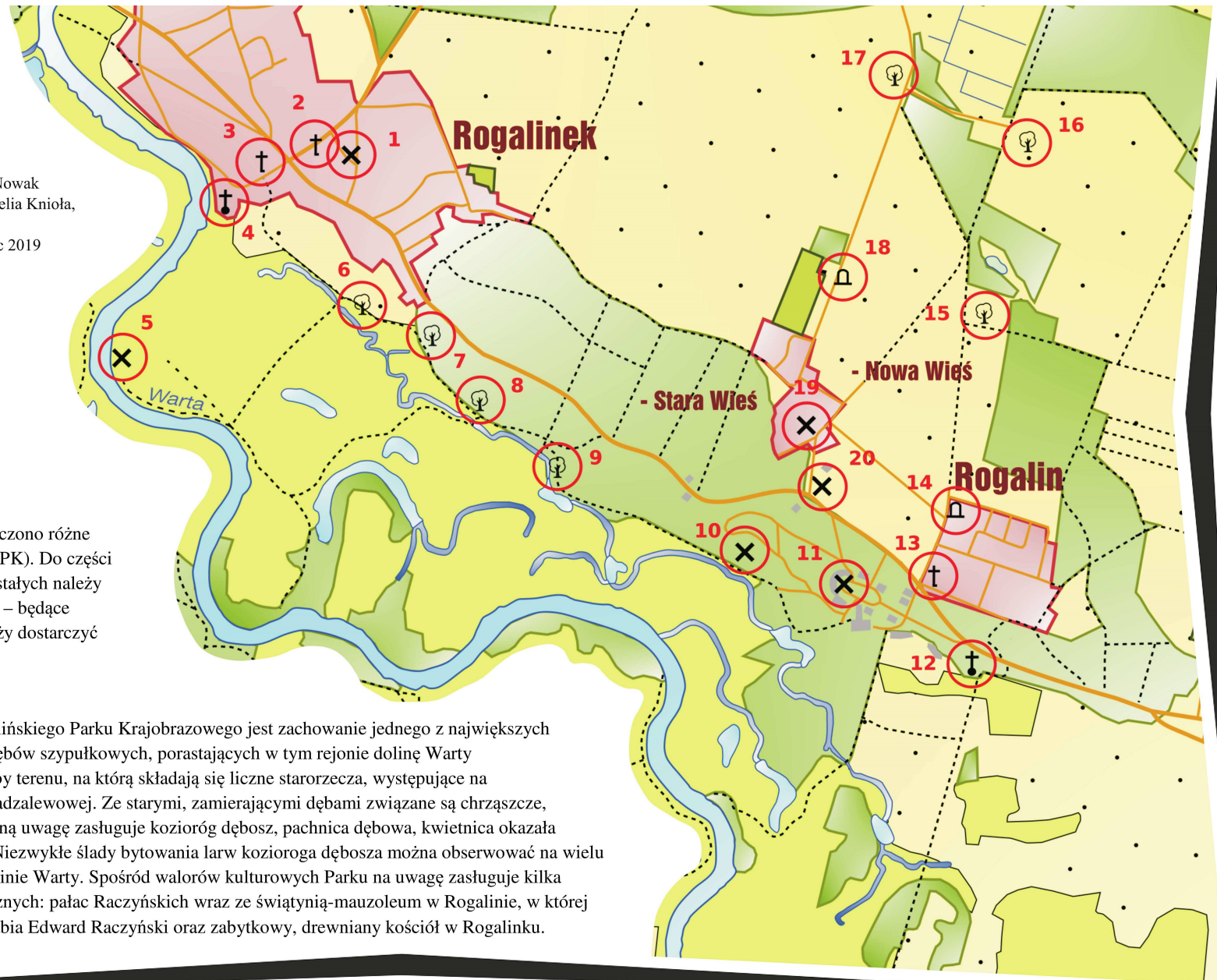
### Legenda

-  Pomnik, głaz pamiątkowy
-  Kościół
-  Krzyż, kapliczka
-  Charakterystyczne drzewo
-  Inny obiekt

Na mapie czerwonymi okręgami zaznaczono różne obiekty, stanowiące punkty kontrolne (PK). Do części z nich zadane zostało pytanie, do pozostałych należy dopasować zdjęcie (A-H). Odpowiedzi – będące potwierdzeniem przebycia trasy – należy dostarczyć do organizatora.



Celem ochrony Rogalińskiego Parku Krajobrazowego jest zachowanie jednego z największych w Europie skupisk dębów szypułkowych, porastających w tym rejonie dolinę Warty oraz unikatowej rzeźby terenu, na którą składają się liczne starorzecza, występujące na terasie zalewowej i nadzalewowej. Ze starymi, zamierającymi dębami związane są chrząszcze, z których na szczególną uwagę zasługuje kozioróg dębosz, pachnica dębowa, kwietnica okazała oraz tęgosz rdzawy. Niezwykle ślady bytowania larw kozioroga dębosza można obserwować na wielu okazach dębów w dolinie Warty. Spośród walorów kulturowych Parku na uwagę zasługuje kilka perełek architektonicznych: pałac Raczyńskich wraz ze świątynią-mauzoleum w Rogalinie, w której został pochowany hrabia Edward Raczyński oraz zabytkowy, drewniany kościół w Rogalinku.



## Turystyczno-Rekreacyjna Impreza na Orientację (1/P/19)

PK 1	Jaki numer ma posesja, przy której stoi słupek z gniazdem zbudowanym przez bociana białego?
PK 2	Dopasuj zdjęcie.
PK 3	Dopasuj zdjęcie.
PK 4	Drewniany, XVIII-wieczny kościół św. Michała Archanioła z dzwonnica z 1893 r. Ile dzwonów umieszczono na dzwonnicy?
PK 5	Na którym kilometrze szlaku kajakowego Uniejów–Międzychód znajduje się przystań im. Jana Pawła II w Rogalinku?
PK 6	Dopasuj zdjęcie.
PK 7	Stary dąb z widocznymi śladami żerowania kozioroga dębosza. Jaki numer znajduje się na wiszącej na drzewie tabliczce?
PK 8	Dopasuj zdjęcie.
PK 9	Dopasuj zdjęcie.
PK 10	Trzy granitowe stoły będące elementami niedokończonego dzieła rzeźbiarza i performerera Jerzego Beresa – „Ołtarze ofiarne”. Jakie symbole na nich wyryto?
PK 11	Ile hełmów umieszczono na drzwiach wejściowych prowadzących do korpusu głównego Pałacu Raczyńskich, będącego obecnie Oddziałem Muzeum Narodowego w Poznaniu, a od 2018 r., jako zespół pałacowo-parkowy, posiadającego status Pomnika Historii?
PK 12	Kościół św. Marcelina z Mauzoleum Raczyńskich wykonane na wzór rzymskiej świątyni w Nimes (Francja). Ile dziesięciopłatkowych kwiatów znajduje się nad wejściem?
PK 13	Dopasuj zdjęcie.
PK 14	Co znajduje się wewnątrz herbu umieszczonego na rokokowej kolumnie granicznej z 1770 r. wyznaczającej dawniej północny wjazd do rezydencji Raczyńskich, od strony tzw. Traktu Poznańskiego?
PK 15	Jakim numerem oznaczono stary dąb pozbawiony większości konarów oraz części kory na pniu, stojący przy alei o historycznej nazwie „Edzia Droga”?
PK 16	Dopasuj zdjęcie.
PK 17	Dopasuj zdjęcie.
PK 18	Droga z aleją lipową prowadząca niegdyś z folwarku w Rogalinie na Polesie. Jaki napis wyryto na pamiątkowym, granitowym głazie?
PK 19	Jaką datę umieszczono na ścianie budynku stojącego przy bramie głównej Majątku Rogalin?
PK 20	Ważący ponad 25 ton głaz narzutowy pochodzący z kopalni odkrywkowej węgla brunatnego pod Koninem. Jakie ograniczenie prędkości obowiązuje na zakręcie, przy którym leży kamień?



Odpowiedzi należy przesłać na e-mail: [poczta@trino.pttk.pl](mailto:poczta@trino.pttk.pl) lub za pomocą formularza.

Przesłanie odpowiedzi oznacza zgodę na umieszczenie na liście osób, które przebyły TRInO.